

Fit im Mai, seid dabei!



Kennt ihr Euch aus in Pommertsweiler, seinen Weilern und Gehöften?

Ob Groß oder Klein – Jung oder Alt
Macht alle mit vom 02.05. – 06.06.2021 und lernt unsere
schöne Heimat kennen!

Gesucht werden Gebäude, Gegenstände oder Plätze in und um Pommertsweiler. Dazu gibt es ein Foto mit einem markanten Ausschnitt. Ihr lest Euch dann die Aufgabe durch und notiert die gesuchte Zahl in der Liste. Wenn ihr alle Fotos und die dazugehörigen Zahlen/Ziffern gefunden habt, addiert Ihr diese und tragt das Ergebnis am Ende ein. Es warten tolle Preise auf Euch! Ihr könnt ganz individuell starten! Unterbrechung sind jederzeit möglich – je nach Laune und Witterungsbedingungen. Benutzt dazu eure Fahrräder oder geht zu Fuß. Auto geht gar nicht! Gleichzeitig könnt ihr an verschiedenen Stationen z.B. Ausdauer, Gedächtnis oder Koordination trainieren.

Bitte beachtet die aktuell geltenden Corona-Regeln!

Ihr könnt euren Teilnahmebogen mit der Lösung per Email senden an:
rundumpommertsweiler@sv-pommertsweiler.de

oder bei:

Monika Häußler
Am Sommerrain 24
73453 Pommertsweiler

Michaela Kling
Lange Str. 49
73453 Pommertsweiler









in den Briefkasten werfen. Abgabeschluss ist der 07.06.2021.




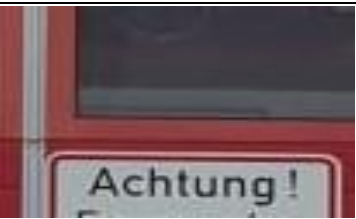




Bei mehreren Teilnehmern mit den richtigen Lösungen entscheidet das Los.

Wir freuen uns auf viele Teilnehmer und wünschen
viel Spaß!

Euer Sportverein Pommertsweiler e.V.

Jeder Teilnehmer handelt in persönlicher Verantwortung und auf eigene Gefahr.
Der Verein übernimmt keine Haftung.

Hinweisbilder	Beschreibung	Zahlen/Ziffern
	<p>Eine Wegvariante des Jakobusweges führt durch Pommertsweiler nach Wöllstein. Sucht den Hinweis auf die Station am Weg. Wieviel Meter über dem Meer liegt diese? Nehmt die erste Ziffer.</p>	
	<p>Dieser Platz liegt in einem idyllischen Tal. Sitzt man abends am Lagerfeuer kann man auch Fledermäuse beobachten. Wieviel Fledermauskästen hängen am Haus?</p>	
	<p>„ Droben auf dem Büchelberger Grat steht die Kapelle“! St. Florian ist sie geweiht. Oberhalb der Tür ist eine Jahreszahl. Die letzte Ziffer bitte eintragen:</p>	
	<p>Wisst ihr wo dieses Foto gemacht wurde? Hier befindet ihr euch in der Dorfmitte von Pommertsweiler. Wie weit ist es von hier nach Hinterbüchelberg?</p>	
	<p>Wisst ihr wo die Bühler entspringt? Folgt dem BTW in den Wald. Dann kommt ihr zum Berrothsbrunnen/Bühlerursprung. Nicht weit davon entfernt findet ihr den Solarpark der Bürgerenergie Abtsgmünd. Hier wird die Quersumme der Tel.Nr. gesucht.</p>	
	<p>Inmitten einer Seenplatte könnt ihr rudern, paddeln oder Tretboot fahren. Wieviel müsst ihr für 30 Minuten Ruderboot und 30 Minuten Tretboot fahren zusammen bezahlen?</p>	
	<p>„Rentner schaffen Schönes“, ob ihr Holdes Highway oder durchs Wildenhäusle hoch wandert, ihr könnt euch oben an einem schönen Platz ausruhen. Wann wurde der Platz gestaltet? Nehmt hier die letzte Ziffer.</p>	
	<p>Mitten im Dorf haben wir einen schön gestalteten Platz. Im Herbst wird dieser von den Landfrauen super geschmückt. Auf der Brunnensäule wird auf verschiedene Berufe hingewiesen. Wie viele sind es?</p>	

Hinweisbilder	Beschreibung	Zahlen/Ziffern
	<p>Der neue Wasserhochbehälter Hohenhöfen hat den alten Wasserhochbehälter abgelöst. Dieser wird nun zur Löschwasserversorgung genutzt. Findet ihr diesen? Wieviel cbm Wasser befinden sich darin? Nehmt die ersten zwei Ziffern.</p>	
	<p>Diese Stufen führen hinauf zu einem Gebäude in dem der SVP „Bewegung für alle“ anbietet. Es ist auch ein Ort für Feiern und Feste. Wieviel Stufen müsst ihr hochgehen? Zähle sie.</p>	
	<p>Hoffentlich muss nie jemand das Gebäude über diesen Weg verlassen. Wie viele Sprossen, auch hinter der Verblendung, hat die Rettungsleiter?</p>	
	<p>Wenn es brennt, dann geht´s hier ganz schön hektisch zu. Wie viele Fenster hat die oberste Reihe vom Rolltor?</p>	
	<p>Ein schöner Platz für Spiele und Bewegung, an dem sich die Kinder austoben können. Ihr benötigt die Anzahl der Schaukeln, die im Kreis angeordnet sind.</p>	
	<p>Ein markanter Wegweiser mit vielen Richtungen im Rottal. Auf dem Standort-Aufkleber Nr. Abt. 013 gibt es eine Höhenangabe (4?4 NN). Wie lautet die fehlende Zahl.</p>	
	<p>Hier wird Hobby-Fußball gespielt. Neben der Hütte steht ein Baum mit dem Schild „Steuchberg 60/?“. Auch hier benötigt ihr die fehlende Zahl?</p>	
	<p>Wir haben im Dorf zwei Kirchen. Welche ist auf dem Bild abgebildet? In welchem Jahr wurde sie erbaut? Nehmt die ersten zwei Ziffern.</p>	
	<p>Früher holten hier die Herren vom Wildenhof ihr Wasser. Heut ist der Platz beliebt bei Familien mit Kindern. Diese können hier planschen, spielen und Natur pur erleben. Ihr findet eine Jahreszahl. Die letzten zwei Ziffern sind hier gesucht.</p>	

Hinweisbilder	Beschreibung	Zahlen/Ziffern
	<p>Blick von oben auf Hinterbüchelberg. Hier findet ihr ein schönes Zeichen des Glaubens. In jedem Jahr findet immer am gleichen Datum ein Gottesdienst in freier Natur statt. In welchem Jahr wurde das ??? erstellt. Nehmt die ersten zwei Ziffern.</p>	
	<p>Die Hauptstrecke des Jakobusweges führt durch ???????. Dort findet jedes Jahr ein Sommerfest statt. Wie weit ist es von diesem Wegweiser hoch zum Parkplatz Büchelberger Grat?</p>	
	<p>Diese Mühle steht an einem der größeren Seen auf der Gemarkung Pommertsweiler. Wann wurde dieses Gebäude erbaut? Hier wird wieder die Quersumme gesucht.</p>	
	<p>Oberhalb des Stahlweihers haben wir einen weiteren kleinen Weiler der Gemeinde. Dort steht ein historischer Bauernhof. Wann wurde dieser erbaut? Nehmt die letzte Ziffer.</p>	
	<p>Im Rottal wird von einer kreativen, liebenswerten Mitbürgerin passend zur Jahreszeit der Tisch am Weg geschmückt. Die Bezeichnung des Flurstücks mit der Nummer 64/? findet ihr in der Nähe. Welche Zahl fehlt?</p>	
	<p>Kurz vor der Gemarkungsgrenze zu Untergröningen findet ihr diesen Wegweiser. Ihr müsst durch einen kleinen Weiler bis zur Wendeplatte. Unterhalb des Schildes das ihr auf dem Foto seht, findet ihr eine Zahl auf gelben Grund. Diese bitte eintragen.</p>	
	<p>Habt ihr alle Stationen gefunden und die jeweils dazugehörige Zahl/ Ziffer eingefügt? Wenn ja, addieren und eintragen. Dies ist die Lösung.</p>	

Name: _____ Vorname: _____

Adresse: _____

Tel.-Nr. _____ e-mail: _____